

Si ho amague, ho trobes? Aritmètica del rellotge


M^a Joaquina Berral Yerón, Inmaculada Serrano Gómez




Maletí de l'espia

Anem a començar a reomplir el nostre maletí d'espia, aquest material l'has de portar preparat el dia de les activitats presencials.


- Has de retallar la plantilla A de 4x4, perforant els forats (gris) i les 3 quadrícules de 4x4




Plantilla A. Els requadros grisos són forats



Quadrícula sense forats



Quadrícula sense forats


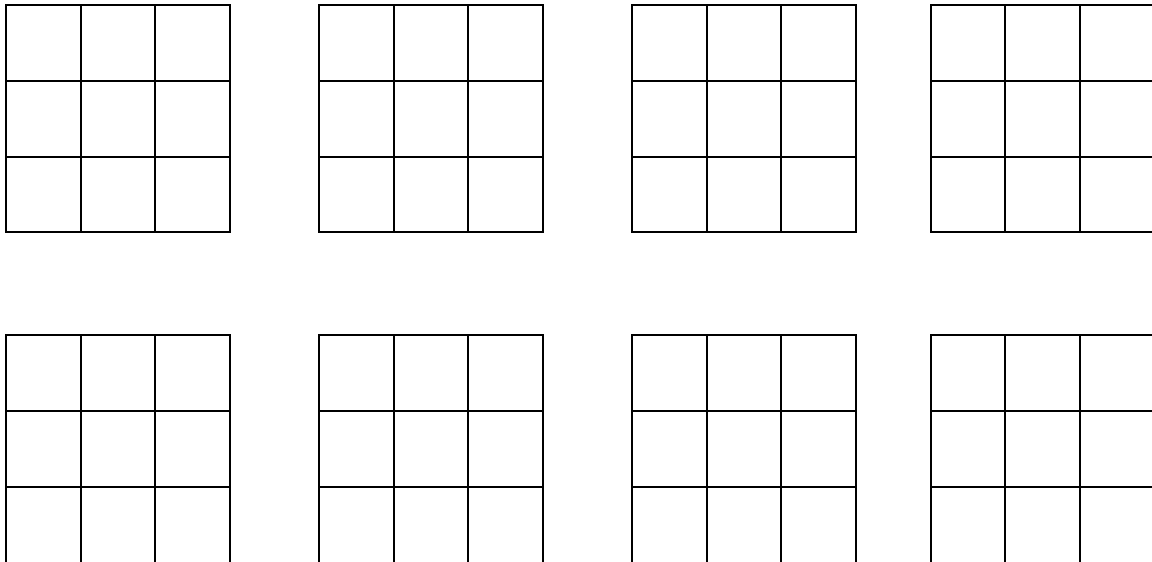


Quadrícula sense forats

- També has de retallar aquestes 8 quadrícules de 3x3.

Si ho amague, ho trobes? Aritmètica del rellotge

M^a Joaquina Berral Yerón, Inmaculada Serrano Gómez



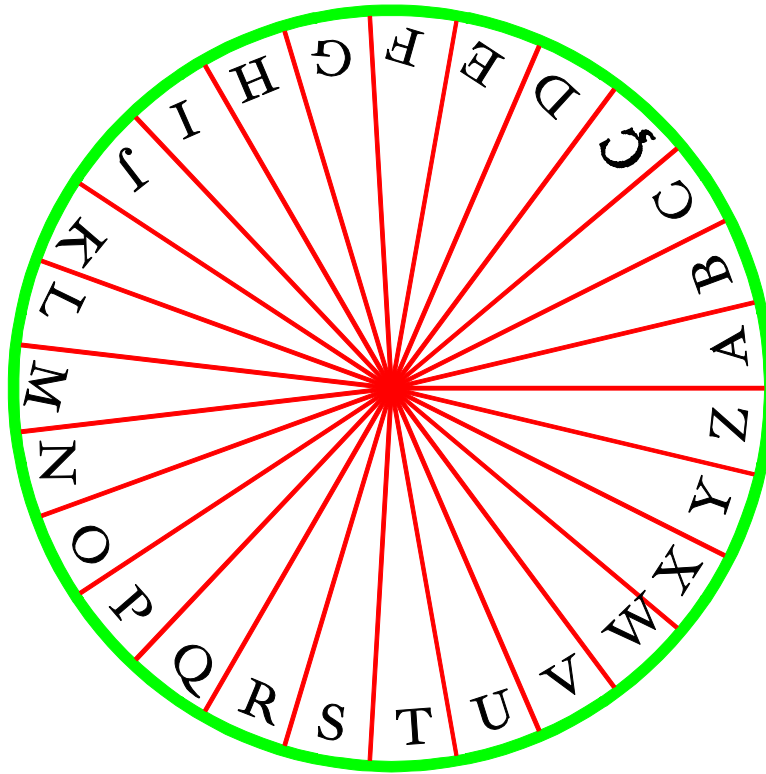
Objectes del maletí de l'espia

Si ho amague, ho trobes? Aritmètica del rellotge

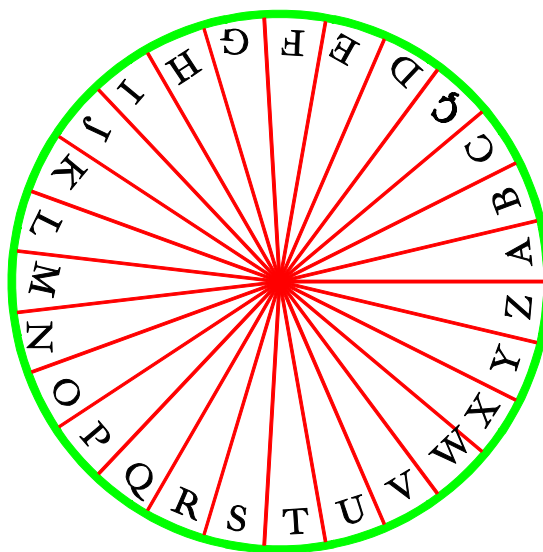
M^a Joaquina Berral Yerón, Inmaculada Serrano Gómez



3. Retalla, per la línia verda, els discos següents:



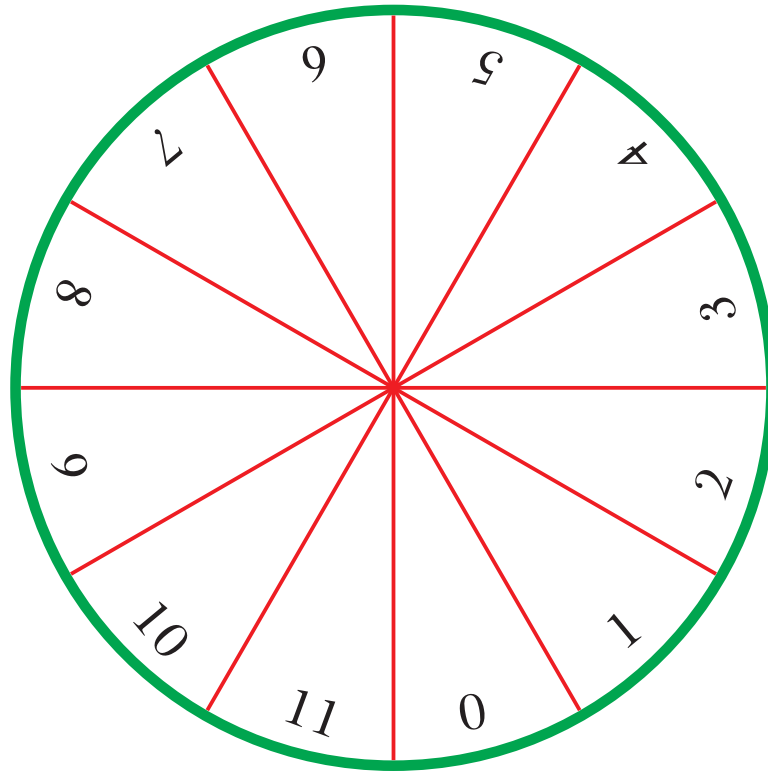
Disc 1



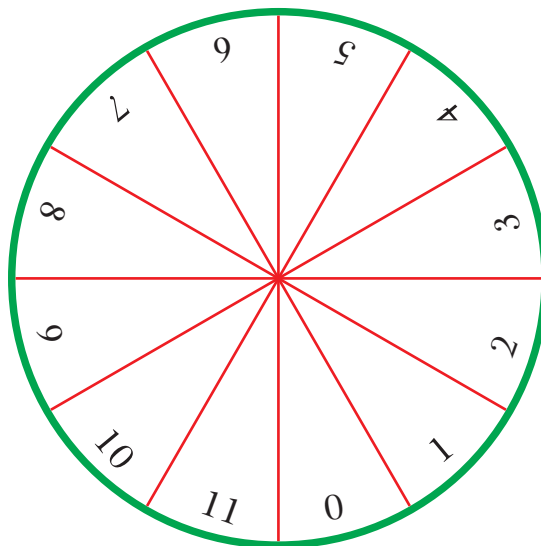
Disc 2

Si ho amague, ho trobes? *Aritmètica del rellotge*

M^a Joaquina Berral Yerón, Inmaculada Serrano Gómez



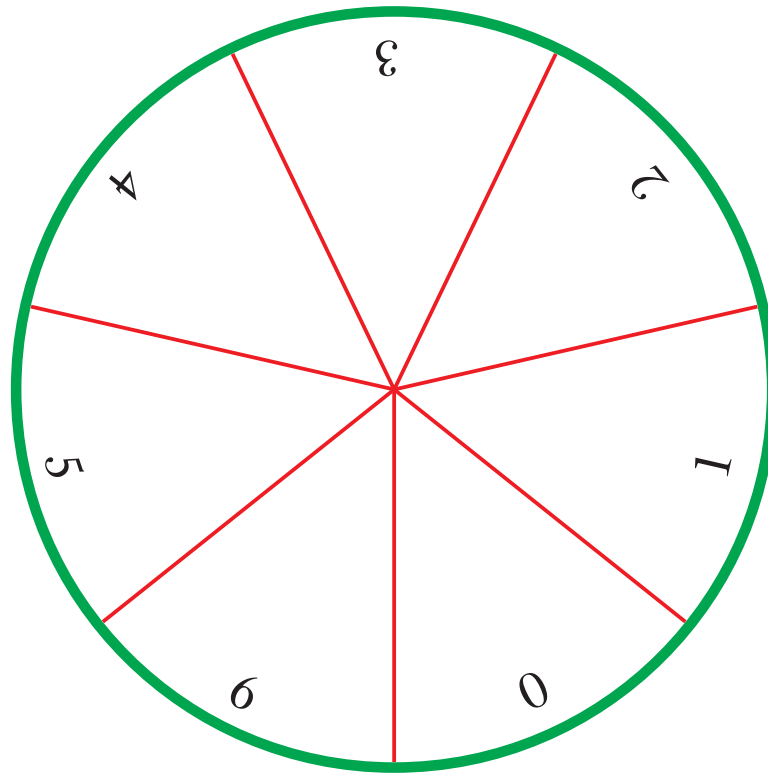
Disc 3



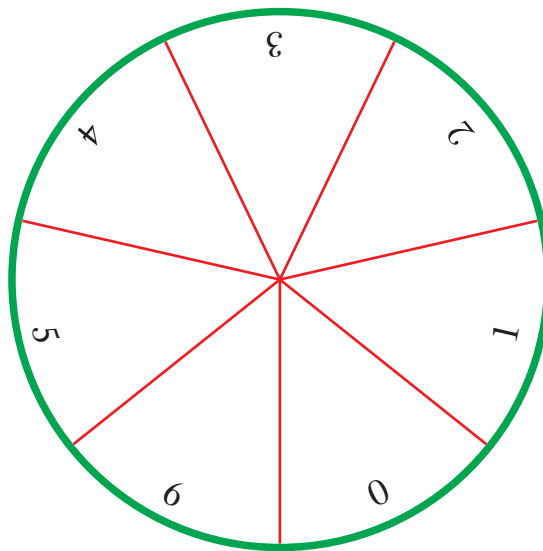
Disc 4

Si ho amague, ho trobes? Aritmètica del rellotge

M^a Joaquina Berral Yerón, Inmaculada Serrano Gómez



Disc 5



Disc 6

Si ho amague, ho trobes? Aritmètica del rellotge

M^a Joaquina Berral Yerón, Inmaculada Serrano Gómez



Una vegada retallats fes un forat en el centre de cada un, col·loca el disc 2 sobre el disc 1 i traspassa-li un enquadernador, s'ha de quedar de forma que ambdós discos puguin girar lliurement (com en la foto de la pàgina 2)

Fes el mateix amb els discos 3 i 4. També amb els discos 5 i 6.

4. A més del que has retallat, si vols pots afegir al teu maletí els objectes que apareixen en la foto de la pàgina 2 i que no has construït en els apartats anteriors.